







III ОЛИМПИАДА КУБАНСКОГО
ГОСУДАРСТВЕННОГО УНИВЕРСИТЕТА
ПО ЕСТЕСТВЕННЫМ НАУКАМ

(География)

9 класс



Таблица 2

1)		А	
2)		Б	
3)		В	

Запишите в таблицу 3 в соответствующие ячейки названия птиц, острова (архипелага), где она обитает и букву, под которой территория представлена в табл.2.

Таблица 3

№	Названия птиц	Балл*	Названия острова (архипелага)	Балл*	Буквенное обозначение острова (архипелага) в табл.1	Балл*
1)						
2)						
3)						

*Для жюри

III ОЛИМПИАДА КУБАНСКОГО
ГОСУДАРСТВЕННОГО УНИВЕРСИТЕТА
ПО ЕСТЕСТВЕННЫМ НАУКАМ

(География)

9 класс



Рис. 1

Федеральный округ с самым высоким темпом роста населения за период с 2014 по 2016 гг. обозначен на рисунке 1 цифрой _____

Тесты

1. Крайняя северная островная точка России находится на острове
 - 1) Уединения
 - 2) Рудольфа
 - 3) Октябрьской Революции
 - 4) Врангеля
2. Благодаря своему географическому положению Африка
 - 1) равномерно увлажнена
 - 2) находится на пути западных ветров
 - 3) является самым высоким материком
 - 4) характеризуется наиболее высокими температурами
3. Современная столица Австралии была основана в ... году
 - 1) 1770
 - 2) 1859
 - 3) 1913
 - 4) 1951
4. Южного географического полюса в 1911 г. достигла экспедиция
 - 1) Руаля Амундсена
 - 2) Роберта Скотта
 - 3) Фритьофа Нансена
 - 4) Роберта Пири

III ОЛИМПИАДА КУБАНСКОГО
ГОСУДАРСТВЕННОГО УНИВЕРСИТЕТА
ПО ЕСТЕСТВЕННЫМ НАУКАМ

(География)

9 класс



5. Среди стран Южной Америки по размерам площади саванн и редколесий первое место занимает государство

- 1) Венесуэла
- 2) Колумбия
- 3) Аргентина
- 4) Бразилия

6. Основал русское поселение Новоархангельскую крепость на острове Ситка

- 1) Григорий Шелихов
- 2) Александр Баранов
- 3) Витус Беринг
- 4) Семен Дежнев

7. Максимальное годовое количество осадков выпадает в

- 1) предгорьях Гималаев
- 2) предгорьях Кавказа
- 3) предгорьях Альп
- 4) предгорьях Памира

8. Острова Крысы и Лисьи являются частью архипелага островов

- 1) Больших Антильских
- 2) Алеутских
- 3) Малых Антильских
- 4) Андаманских

9. Установите соответствие

Государство	Столица
1) Самоа	А) Сува
2) Новая Зеландия	Б) Апия
3) Папуа-Новая Гвинея	В) Веллингтон
4) Соломоновы Острова	Г) Порт-Морсби
	Д) Хониара

Ответ:

1)	2)	3)	4)

10. Определите граничащее с Россией государство по краткому описанию.

Государство имеет приморское географическое положение и является унитарной конституционной монархией. Невысокие горы занимают большую часть территории. На гербе изображен геральдический коронованный лев с секирой. Доля титульной нации около 90%, однако, в последние несколько лет этот показатель несколько снизился за счет иммиграции. Государство – крупный производитель нефти и газа и одно из крупнейших в мире по объему морских перевозок. Мировой лидер по производству электроэнергии на душу населения. Входит в НАТО.

Ответ: _____.

**III ОЛИМПИАДА КУБАНСКОГО
ГОСУДАРСТВЕННОГО УНИВЕРСИТЕТА
ПО ЕСТЕСТВЕННЫМ НАУКАМ**

(География)

9 класс



--

11. Добыча каменного угля является отраслью специализации:

- 1) Ярославской области
- 2) Саратовской области
- 3) Кемеровской области
- 4) Республики Калмыкия

12. Установите соответствие между производством и центром его размещения.

Производство	Центр размещения
1) Тракторостроение	А) Чебоксары
2) Производство алюминия	Б) Кандалакша
3) Производство минеральных удобрений	В) Невинномысск
4) Лесная промышленность	Г) Архангельск

Ответ:

1)	2)	3)	4)

13. Выберите из предложенного списка два региона, в которых расположены АЭС.

- | | | |
|------------------------|------------------------|------------------------|
| 1) Кемеровская область | 2) Республика Калмыкия | 3) Тверская область |
| 4) Ростовская область | 5) Республика Крым | 6) Сахалинская область |

14. В какой из перечисленных пар регионов расположены электрометаллургические предприятия черной металлургии?

- 1) Иркутская область - Республика Коми
- 2) Костромская область - Омская область
- 3) Республика Карелия - Магаданская область
- 4) Белгородская область - Краснодарский край

15. Какие утверждения о Северо-Западном федеральном округе России является верным?

- 1) В состав округа входит 11 субъектов РФ.
- 2) Округ занимает первое место в РФ по объему ВРП.
- 3) На территории округа расположены Ковдорское, Оленегорское и Костомукшское месторождения железных руд.
- 4) В структуре экспорта преобладает сельскохозяйственная продукция.

Таблица для ответов на тесты

1	2	3	4	5	6	7	8

9	10	11	12	13	14	15